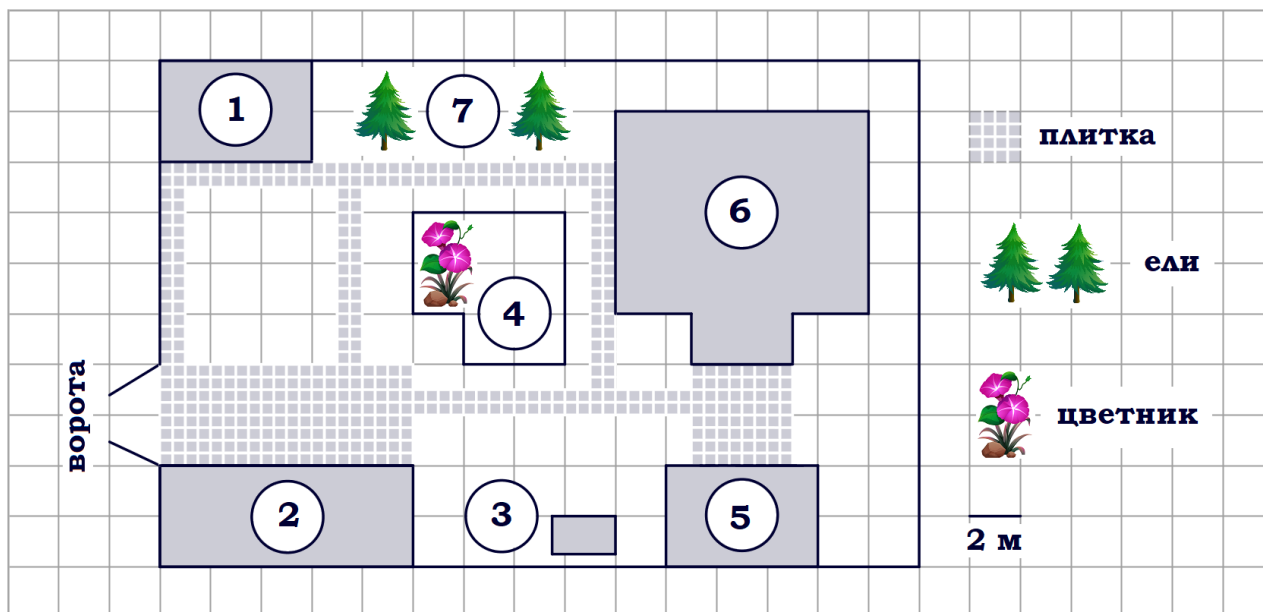


01-05. Задачи с практическим содержанием Часть 1. ФИПИ

«Участок»



Задание 1. На плане изображено домохозяйство по адресу: СНТ «Прибор», 2-я Линия, д. 26 (сторона каждой клетки на плане равна 2 м). Участок имеет прямоугольную форму. Выезд и въезд осуществляются через единственные ворота. При входе на участок справа от ворот находится гараж, а слева в углу участка расположен сарай, отмеченный на плане цифрой 1. Площадь, занятая сараем, равна 24 кв. м. Жилой дом находится в глубине территории и обозначен на плане цифрой 6. Помимо гаража, жилого дома и сарая, на участке имеется летняя беседка, расположенная напротив входа в дом, и мангал рядом с ней. На участке также растут ели. В центре участка расположен цветник. Все дорожки внутри участка имеют ширину 1 м и вымощены тротуарной плиткой размером 50 см × 50 см. Перед гаражом и между домом и беседкой имеются площадки площадью 40 и 16 кв. м соответственно, вымощенные такой же плиткой. К домохозяйству подведено электричество. Имеется магистральное газоснабжение.

1.1. Для объектов, указанных в таблице, определите, какими цифрами они обозначены на плане. Заполните таблицу, в бланк ответов перенесите последовательность четырёх цифр без пробелов, запятых и других дополнительных символов.

Объекты	беседка	ели	гараж	мангал
Цифры				

1.2. Для объектов, указанных в таблице, определите, какими цифрами они обозначены на плане. Заполните таблицу, в бланк ответов перенесите последовательность четырёх цифр без пробелов, запятых и других дополнительных символов.

Объекты	цветник	гараж	мангал	беседка
Цифры				

1.3. Найдите площадь, которую занимает жилой дом. Ответ дайте в квадратных метрах.

1.4. Найдите площадь, которую занимает цветник. Ответ дайте в квадратных метрах.

1.5. Найдите площадь, которую занимает гараж. Ответ дайте в квадратных метрах.

1.6. Найдите расстояние от гаража до жилого дома (расстояние между двумя ближайшими точками по прямой) в метрах.

1.7. Найдите расстояние от цветника до жилого дома (расстояние между двумя ближайшими точками по прямой) в метрах.

1.8. Сколько процентов площади всего участка занимает сарай?

1.9. Сколько процентов площади всего участка занимает гараж? Ответ округлите до целого.

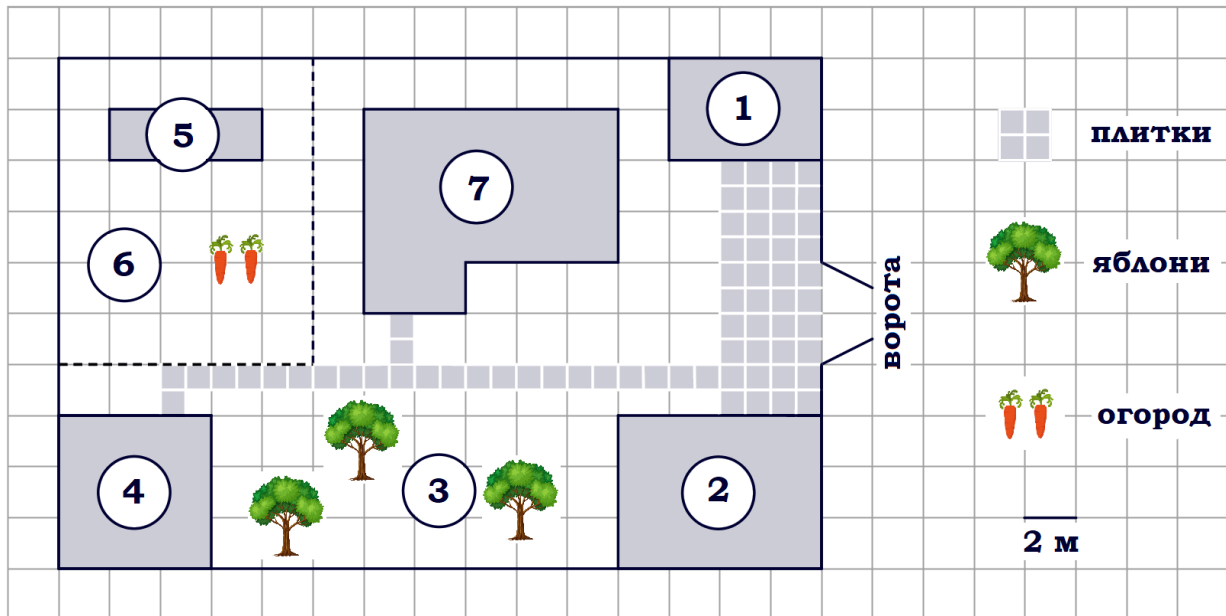
1.10. Тротуарная плитка продаётся в упаковках по 8 штук. Сколько упаковок плитки понадобилось, чтобы выложить только дорожки?

1.11. Тротуарная плитка продаётся в упаковках по 7 штук. Сколько упаковок плитки понадобилось, чтобы выложить только дорожки?

1.12. Тротуарная плитка продаётся в упаковках, рассчитанных на $3,5 \text{ м}^2$. Сколько упаковок такой плитки понадобилось, чтобы выложить все дорожки и обе площадки?

1.13. Тротуарная плитка продаётся в упаковках, рассчитанных на $2,5 \text{ м}^2$. Сколько упаковок такой плитки понадобилось, чтобы выложить все дорожки и обе площадки?

«Участок»



Задание 2. На плане изображён дачный участок по адресу: п. Сосновка, ул. Зелёная, д. 19 (сторона каждой клетки на плане равна 2 м). Участок имеет прямоугольную форму. Выезд и въезд осуществляются через единственные ворота. При входе на участок слева от ворот находится гараж. Справа от ворот находится сарай площадью 24 кв. м, а чуть подальше – жилой дом. Напротив жилого дома расположены яблоневые посадки. Также на участке есть баня, к которой ведёт дорожка, выложенная плиткой, и огород с теплицей внутри (огород отмечен на плане цифрой 6). Все дорожки внутри участка имеют ширину 1 м и вымощены тротуарной плиткой размером 1 м x 1 м. Между гаражом и сараем находится площадка, вымощенная такой же плиткой. К участку подведено электричество. Имеется магистральное газоснабжение.

2.1. Для объектов, указанных в таблице, определите, какими цифрами они обозначены на плане. Заполните таблицу, в бланк ответов перенесите последовательность четырёх цифр.

Объекты	яблони	теплица	сарай	жилой дом
Цифры				

2.2. Для объектов, указанных в таблице, определите, какими цифрами они обозначены на плане. Заполните таблицу, в бланк ответов перенесите последовательность четырёх цифр.

Объекты	жилой дом	баня	гараж	теплица
Цифры				

2.3. Для объектов, указанных в таблице, определите, какими цифрами они обозначены на плане. Заполните таблицу, в бланк ответов перенесите последовательность четырёх цифр без пробелов, запятых и других дополнительных символов.

Объекты	сарай	гараж	жилой дом	теплица
Цифры				

2.4. Для объектов, указанных в таблице, определите, какими цифрами они обозначены на плане. Заполните таблицу, в бланк ответов перенесите последовательность четырёх цифр.

Объекты	теплица	яблони	баня	жилой дом
Цифры				

2.5. Найдите расстояние от жилого дома до гаража (расстояние между двумя ближайшими точками по прямой) в метрах.

2.6. Найдите расстояние от жилого дома до сарая (расстояние между двумя ближайшими точками по прямой) в метрах.

2.7. Найдите расстояние от жилого дома до теплицы (расстояние между двумя ближайшими точками по прямой) в метрах.

2.8. Плитки для садовых дорожек продаются в упаковках по 4 штуки. Сколько упаковок плиток понадобилось, чтобы выложить все дорожки?

2.9. Плитки для садовых дорожек продаются в упаковках по 6 штук. Сколько упаковок плиток понадобилось, чтобы выложить все дорожки?

2.10. Плитки для садовых дорожек продаются в упаковках по 8 штук. Сколько упаковок плиток понадобилось, чтобы выложить все дорожки и площадку между сараем и гаражом?

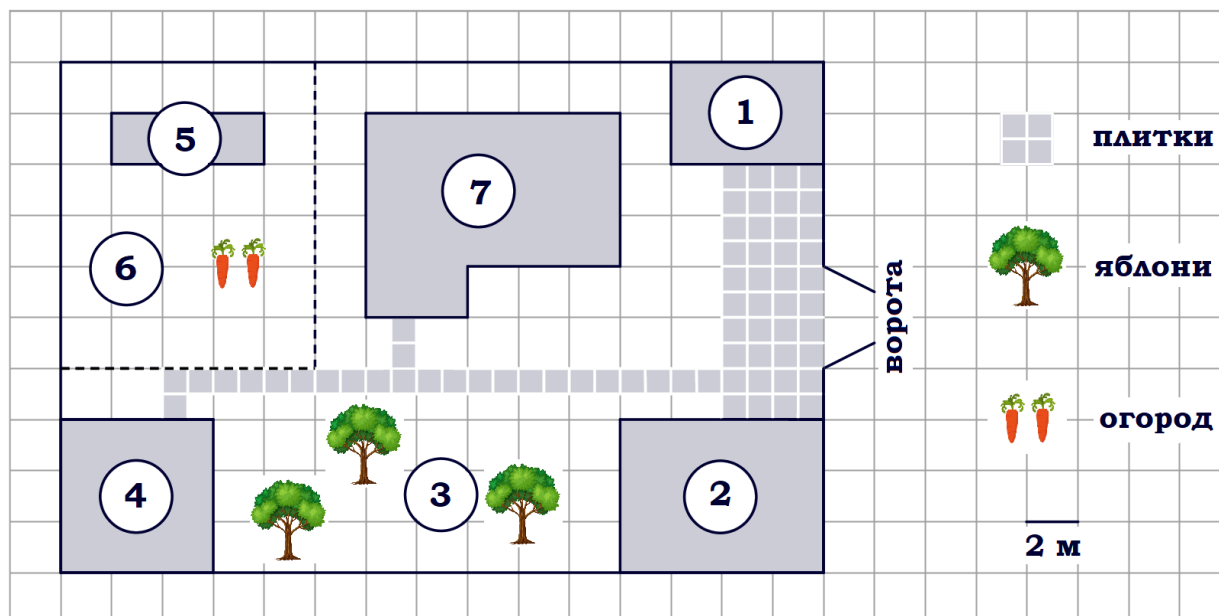
2.11. Плитки для садовых дорожек продаются в упаковках по 10 штук. Сколько упаковок плиток понадобилось, чтобы выложить все дорожки и площадку между сараем и гаражом?

2.12. Найдите периметр фундамента жилого дома. Ответ дайте в метрах.

2.13. Найдите площадь, которую занимает баня. Ответ дайте в квадратных метрах.

2.14. Найдите площадь, которую занимает гараж. Ответ дайте в квадратных метрах.

«Участок»



Задание 2. На плане изображён дачный участок по адресу: п. Сосновка, ул. Зелёная, д. 19 (сторона каждой клетки на плане равна 2 м). Участок имеет прямоугольную форму. Выезд и въезд осуществляются через единственные ворота. При входе на участок слева от ворот находится гараж. Справа от ворот находится сарай площадью 24 кв. м, а чуть подальше – жилой дом. Напротив жилого дома расположены яблоневые посадки. Также на участке есть баня, к которой ведёт дорожка, выложенная плиткой, и огород с теплицей внутри (огород отмечен на плане цифрой 6). Все дорожки внутри участка имеют ширину 1 м и вымощены тротуарной плиткой размером 1 м x 1 м. Между гаражом и сараем находится площадка, вымощенная такой же плиткой. К участку подведено электричество. Имеется магистральное газоснабжение.

2.15. Для объектов, указанных в таблице, определите, какими цифрами они обозначены на плане. Заполните таблицу, в бланк ответов перенесите последовательность четырёх цифр.

Объекты	теплица	гараж	яблони	баня
Цифры				

2.16. Для объектов, указанных в таблице, определите, какими цифрами они обозначены на плане. Заполните таблицу, в бланк ответов перенесите последовательность четырёх цифр без пробелов, запятых и других дополнительных символов.

Объекты	сарай	жилой дом	теплица	баня
Цифры				

2.17. Для объектов, указанных в таблице, определите, какими цифрами они обозначены на плане. Заполните таблицу, в бланк ответов перенесите последовательность четырёх цифр.

Объекты	гараж	баня	жилой дом	яблони
Цифры				

2.18. Для объектов, указанных в таблице, определите, какими цифрами они обозначены на плане. Заполните таблицу, в бланк ответов перенесите последовательность четырёх цифр.

Объекты	жилой дом	яблони	теплица	гараж
Цифры				

2.19. Найдите площадь открытого грунта огорода (вне теплицы). Ответ дайте в квадратных метрах.

2.20. Найдите площадь, которую занимает жилой дом. Ответ дайте в квадратных метрах.

2.21. Сколько процентов от площади всего огорода занимает теплица?

2.22. Сколько процентов от площади всего участка занимает плитка (дорожки и площадка)? Ответ округлите до целого.

2.23. Сколько процентов от площади всего участка занимают строения (жилой дом, гараж, сарай, баня)? Ответ округлите до целого.

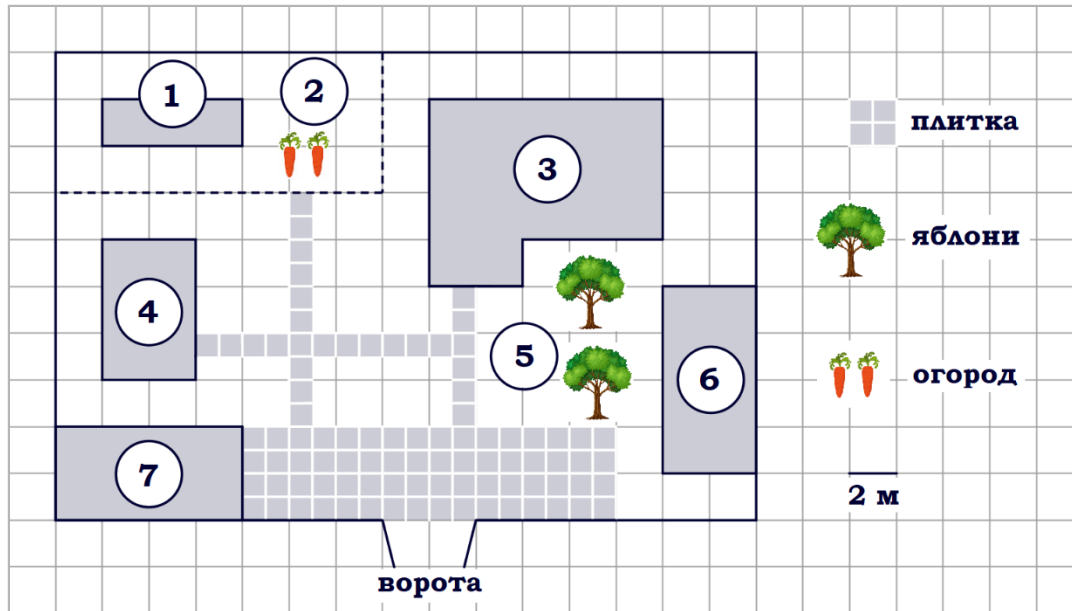
2.24. На сколько процентов площадь, которую занимает баня, меньше площади, которую занимает гараж?

2.25. На сколько процентов площадь, которую занимает гараж, больше площади, которую занимает теплица?

2.26. На сколько процентов площадь, которую занимает теплица, меньше площади, которую занимает гараж?

2.27. На сколько процентов площадь, которую занимает баня, больше площади, которую занимает сарай?

«Участок»



Задание 3. На плане изображено домохозяйство по адресу: с. Авдеево, 3-й Поперечный пер., д. 13 (сторона каждой клетки на плане равна 2 м). Участок имеет прямоугольную форму. Выезд и въезд осуществляются через единственные ворота. При входе на участок справа от ворот находится баня, а слева – гараж, отмеченный на плане цифрой 7. Площадь, занятая гаражом, равна 32 кв. м. Жилой дом находится в глубине территории. Помимо гаража, жилого дома и бани, на участке имеется сарай, расположенный рядом с гаражом, и теплица, построенная на территории огорода (огород отмечен цифрой 2). Перед жилым домом имеются яблоневые посадки. Все дорожки внутри участка имеют ширину 1 м и вымощены тротуарной плиткой размером 1 м x 1 м. Между баней и гаражом имеется площадка площадью 64 кв. м, вымощенная плиткой такого же размера, но другой фактуры и цвета. К домохозяйству подведено электричество. Имеется магистральное газоснабжение.

3.1. Для объектов, указанных в таблице, определите, какими цифрами они обозначены на плане. Заполните таблицу, в бланк ответов перенесите последовательность четырёх цифр без пробелов, запятых и других дополнительных символов.

Объекты	яблони	теплица	жилой дом	баня
Цифры				

3.2. Найдите площадь открытого грунта огорода (вне теплицы). Ответ дайте в квадратных метрах.

3.3. Найдите площадь, которую занимает жилой дом. Ответ дайте в квадратных метрах.

3.4. Для объектов, указанных в таблице, определите, какими цифрами они обозначены на плане. Заполните таблицу, в бланк ответов перенесите последовательность четырёх цифр без пробелов, запятых и других дополнительных символов.

Объекты	жилой дом	сарай	баня	теплица
Цифры				

3.5. Найдите расстояние от ворот до сарая (расстояние между двумя ближайшими точками по прямой) в метрах.

3.6. Найдите расстояние от жилого дома до гаража (расстояние между двумя ближайшими точками по прямой) в метрах.

3.7. Найдите расстояние от бани до гаража (расстояние между двумя ближайшими точками по прямой) в метрах.

3.8. Тротуарная плитка продаётся в упаковках по 5 штук. Сколько упаковок такой плитки понадобилось, чтобы выложить все дорожки?

3.9. Тротуарная плитка продаётся в упаковках по 3 штуки. Сколько упаковок такой плитки понадобилось, чтобы выложить все дорожки?

3.10. Тротуарная плитка продаётся в упаковках по 4 штуки. Сколько упаковок плитки понадобилось, чтобы выложить все дорожки и площадку перед гаражом?

3.11. Тротуарная плитка продаётся в упаковках по 9 штук. Сколько упаковок плитки понадобилось, чтобы выложить площадку перед гаражом?

3.12. Найдите площадь открытого грунта огорода (вне теплицы). Ответ дайте в квадратных метрах.

3.13. Найдите площадь, которую занимает баня. Ответ дайте в квадратных метрах.

3.14. Сколько процентов от площади всего участка занимает плитка (дорожки и площадка)?

3.15. Сколько процентов от площади всего участка занимают строения (жилой дом, гараж, сарай, баня)?

3.16. На сколько процентов площадь, которую занимает сарай, меньше площади, которую занимает баня?

«Участок»**Задание 4. Задачи на оптимальный выбор**

4.1. Хозяин участка планирует установить в жилом доме систему отопления. Он рассматривает два варианта: электрическое или газовое отопление. Цены на оборудование и стоимость его установки, данные о расходе газа, электроэнергии и их стоимости даны в таблице.

	Нагреватель (котёл)	Прочее оборудование и монтаж	Средн. расход газа/средн. потребл. мощность	Стоимость газа/электроэнергии
Газовое отопление	24 000 руб.	14 316 руб.	1,1 куб. м/ч	4,4 руб./куб. м
Электр. отопление	19 000 руб.	11 000 руб.	4,4 кВт	5,3 руб./(кВт·ч)

Обдумав оба варианта, хозяин решил установить газовое отопление. Через сколько часов непрерывной работы отопления экономия от использования газа вместо электричества компенсирует разницу в стоимости покупки и установки газового и электрического оборудования?

4.2. Хозяин участка планирует установить в жилом доме систему отопления. Он рассматривает два варианта: электрическое или газовое отопление. Цены на оборудование и стоимость его установки, данные о расходе газа, электроэнергии и их стоимости даны в таблице.

	Нагреватель (котёл)	Прочее оборудование и монтаж	Средн. расход газа/средн. потребл. мощность	Стоимость газа/электроэнергии
Газовое отопление	20 000 руб.	15 370 руб.	1,6 куб. м/ч	4,9 руб./куб. м
Электр. отопление	15 000 руб.	14 000 руб.	4,9 кВт	4,2 руб./(кВт·ч)

Обдумав оба варианта, хозяин решил установить газовое отопление. Через сколько часов непрерывной работы отопления экономия от использования газа вместо электричества компенсирует разницу в стоимости покупки и установки газового и электрического оборудования?

4.3. Хозяин участка планирует установить в жилом доме систему отопления. Он рассматривает два варианта: электрическое или газовое отопление. Цены на оборудование и стоимость его установки, данные о расходе газа, электроэнергии и их стоимости даны в таблице.

	Нагреватель (котёл)	Прочее оборудование и монтаж	Средн. расход газа/средн. потребл. мощность	Стоимость газа/электроэнергии
Газовое отопление	21 000 руб.	15 536 руб.	1,5 куб. м/ч	4,8 руб./куб. м
Электр. отопление	18 000 руб.	14 000 руб.	4,8 кВт	4,2 руб./кВт·ч

Обдумав оба варианта, хозяин решил установить газовое отопление. Через сколько часов непрерывной работы отопления экономия от использования газа вместо электричества компенсирует разницу в стоимости покупки и установки газового и электрического оборудования?

4.4. Хозяин участка планирует устроить в жилом доме зимнее отопление. Он рассматривает два варианта: электрическое или газовое отопление. Цены на оборудование и стоимость его установки, данные о расходе газа, электроэнергии и их стоимости даны в таблице.

	Нагреватель (котёл)	Прочее оборудование и монтаж	Средн. расход газа/средн. потребл. мощность	Стоимость газа/электроэнергии
Газовое отопление	24 000 руб.	18 280 руб.	1,2 куб. м/ч	5,6 руб./куб. м
Электр. отопление	20 000 руб.	15 000 руб.	5,6 кВт	3,8 руб./кВт·ч

Обдумав оба варианта, хозяин решил установить газовое оборудование. Через сколько часов непрерывной работы отопления экономия от использования газа вместо электричества компенсирует разность в стоимости устройства газового и электрического отопления?

4.5. Хозяин участка планирует устроить в жилом доме зимнее отопление. Он рассматривает два варианта: электрическое или газовое отопление. Цены на оборудование и стоимость его установки, данные о расходе газа, электроэнергии и их стоимости даны в таблице.

	Нагреватель (котёл)	Прочее оборудование и монтаж	Средн. расход газа/ средн. потребл. мощность	Стоимость газа/электро- энергии
Газовое отопление	22 000 руб.	14 580 руб.	1,4 куб. м/ч	5,5 руб./куб. м
Электр. отопление	15 000 руб.	13 000 руб.	5,5 кВт	3,8 руб./ (кВт·ч)

Обдумав оба варианта, хозяин решил установить газовое оборудование. Через сколько часов непрерывной работы отопления экономия от использования газа вместо электричества компенсирует разницу в стоимости устройства газового и электрического оборудования?

4.6. Хозяин участка планирует устроить в жилом доме зимнее отопление. Он рассматривает два варианта: электрическое или газовое отопление. Цены на оборудование и стоимость его установки, данные о расходе газа, электроэнергии и их стоимости даны в таблице.

	Нагреватель (котёл)	Прочее оборудование и монтаж	Средн. расход газа/ средн. потребл. мощность	Стоимость газа/электро- энергии
Газовое отопление	19 000 руб.	16 100 руб.	1,4 куб. м/ч	4,5 руб./куб. м
Электр. отопление	15 000 руб.	12 000 руб.	4,5 кВт	3,8 руб./ (кВт·ч)

Обдумав оба варианта, хозяин решил установить газовое отопление. Через сколько часов непрерывной работы отопления экономия от использования газа вместо электричества компенсирует разницу в стоимости покупки и установки газового и электрического оборудования?

4.7. Хозяин участка планирует устроить в жилом доме зимнее отопление. Он рассматривает два варианта: электрическое или газовое отопление. Цены на оборудование и стоимость его установки, данные о расходе газа, электроэнергии и их стоимости даны в таблице.

	Нагреватель (котёл)	Прочее оборудование и монтаж	Средн. расход газа/средн. потребл. мощность	Стоимость газа/электроэнергии
Газовое отопление	18 000 руб.	13 896 руб.	1,6 куб. м/ч	4,7 руб./куб. м
Электр. отопление	15 000 руб.	9 000 руб.	4,7 кВт	4,4 руб./(кВт·ч)

Обдумав оба варианта, хозяин решил установить газовое отопление. Через сколько часов непрерывной работы отопления экономия от использования газа вместо электричества компенсирует разницу в стоимости покупки и установки газового и электрического оборудования?

4.8. Хозяин участка планирует установить в жилом доме систему отопления. Он рассматривает два варианта: электрическое или газовое отопление. Цены на оборудование и стоимость его установки, данные о расходе газа, электроэнергии и их стоимости даны в таблице.

	Нагреватель (котёл)	Прочее оборудование и монтаж	Средн. расход газа/средн. потребл. мощность	Стоимость газа/электроэнергии
Газовое отопление	22 000 руб.	20 105 руб.	1,5 куб. м/ч	4,9 руб./куб. м
Электр. отопление	19 000 руб.	16 000 руб.	4,9 кВт	4,4 руб./(кВт·ч)

Обдумав оба варианта, хозяин решил установить газовое отопление. Через сколько часов непрерывной работы отопления экономия от использования газа вместо электричества компенсирует разницу в стоимости покупки и установки газового и электрического оборудования?

4.9. Хозяин участка решил покрасить весь забор вокруг участка (только с внешней стороны) в зелёный цвет. Площадь забора равна 232 кв. м, а купить краску можно в одном из двух ближайших магазинов. Цены и характеристики краски и стоимость доставки заказа даны в таблице.

Номер магазина	Расход краски	Масса краски в одной банке	Стоимость одной банки краски	Стоимость доставки заказа
1	0,6 кг/кв. м	5 кг	2400 руб.	400 руб.
2	0,4 кг/кв. м	4 кг	2300 руб.	600 руб.

Во сколько рублей обойдётся наиболее дешёвый вариант покупки с доставкой?

4.10. Хозяин участка решил покрасить весь забор вокруг участка (только с внешней стороны) в зелёный цвет. Площадь забора равна 232 кв. м, а купить краску можно в одном из двух ближайших магазинов. Цены и характеристики краски и стоимость доставки заказа даны в таблице.

Номер магазина	Расход краски	Масса краски в одной банке	Стоимость одной банки краски	Стоимость доставки заказа
1	0,25 кг/кв. м	4 кг	2800 руб.	700 руб.
2	0,3 кг/кв. м	3 кг	2000 руб.	300 руб.

Во сколько рублей обойдётся наиболее дешёвый вариант покупки с доставкой?

4.11. Хозяин участка решил покрасить весь забор вокруг участка (только с внешней стороны) в зелёный цвет. Площадь забора равна 232 кв. м, а купить краску можно в одном из двух ближайших магазинов. Цена и характеристика краски и стоимость доставки заказа даны в таблице.

Номер магазина	Расход краски	Масса краски в одной банке	Стоимость одной банки краски	Стоимость доставки заказа
1	0,5 кг/кв. м	2,5 кг	1500 руб.	600 руб.
2	0,6 кг/кв. м	4 кг	2000 руб.	300 руб.

Во сколько рублей обойдётся наиболее дешёвый вариант покупки с доставкой?

4.12. Хозяин участка решил покрасить весь забор вокруг участка (только с внешней стороны) в зелёный цвет. Площадь забора равна 232 кв. м, а купить краску можно в одном из двух ближайших магазинов. Цена и характеристика краски и стоимость доставки заказа даны в таблице.

Номер магазина	Расход краски	Масса краски в одной банке	Стоимость одной банки краски	Стоимость доставки заказа
1	0,4 кг/кв. м	4 кг	2200 руб.	800 руб.
2	0,5 кг/кв. м	3 кг	1800 руб.	500 руб.

Во сколько рублей обойдётся наиболее дешёвый вариант покупки с доставкой?

4.13. Хозяин участка решил покрасить весь забор вокруг участка (только с внешней стороны) в зелёный цвет. Площадь забора равна 232 кв. м, а купить краску можно в одном из двух ближайших магазинов. Цена и характеристика краски и стоимость доставки заказа даны в таблице.

Номер магазина	Расход краски	Масса краски в одной банке	Стоимость одной банки краски	Стоимость доставки заказа
1	0,5 кг/кв. м	5 кг	1800 руб.	200 руб.
2	0,3 кг/кв. м	4 кг	2500 руб.	800 руб.

Во сколько рублей обойдётся наиболее дешёвый вариант покупки с доставкой?

4.14. Хозяин участка решил покрасить весь забор вокруг участка (только с внешней стороны) в зелёный цвет. Площадь забора равна 232 кв. м, а купить краску можно в одном из двух ближайших магазинов. Цена и характеристика краски и стоимость доставки заказа даны в таблице.

Номер магазина	Расход краски	Масса краски в одной банке	Стоимость одной банки краски	Стоимость доставки заказа
1	0,4 кг/кв. м	6 кг	2200 руб.	300 руб.
2	0,3 кг/кв. м	5 кг	1800 руб.	1000 руб.

Во сколько рублей обойдётся наиболее дешёвый вариант покупки с доставкой?