

**01-05. Задачи с практическим содержанием****Часть 1. ФИПИ «Печь для бани»**

**Задание 1.** Хозяин дачного участка строит баню с парным отделением. Парное отделение имеет размеры: длина 3,5 м, ширина 2,2 м, высота 2 м. Окон в парном отделении нет, для доступа внутрь планируется дверь шириной 60 см, высота дверного проёма 1,8 м. Для прогрева парного отделения можно использовать электрическую или дровяную печь. В таблице представлены характеристики трёх печей.

Номер печи	Тип	Объём помещения (куб. м)	Масса (кг)	Стоимость (руб.)
1	дровяная	8 – 12	40	18 000
2	дровяная	10 – 16	48	19 500
3	электрическая	9 – 15,5	15	15 000

Для установки дровяной печи дополнительных затрат не потребуется. Установка электрической печи потребует подведения специального кабеля, что обойдётся в 6500 руб.

**1.** Установите соответствие между массами и номерами печей.

Заполните таблицу, в бланк ответов перенесите последовательность трёх цифр без пробелов, запятых и других дополнительных символов.

Масса (кг)	15	40	48
Номер печи			

**2.** Найдите объём парного отделения строящейся бани. Ответ дайте в кубических метрах.

**3.** Во сколько рублей обойдётся покупка дровяной печи, подходящей по объёму парного отделения, с доставкой, если доставка печи до дачного участка будет стоить 1400 рублей?

**4.** Доставка любой печи из магазина до участка стоит 1000 рублей. При покупке печи стоимостью больше 19 000 рублей магазин делает скидку 5% на товар и 30% на доставку. Сколько рублей будет стоить покупка печи номер 2 с доставкой на этих условиях?

5. Хозяин выбрал дровяную печь (рис. 1). Чертёж передней панели печи показан на рисунке 2.



Рис. 1

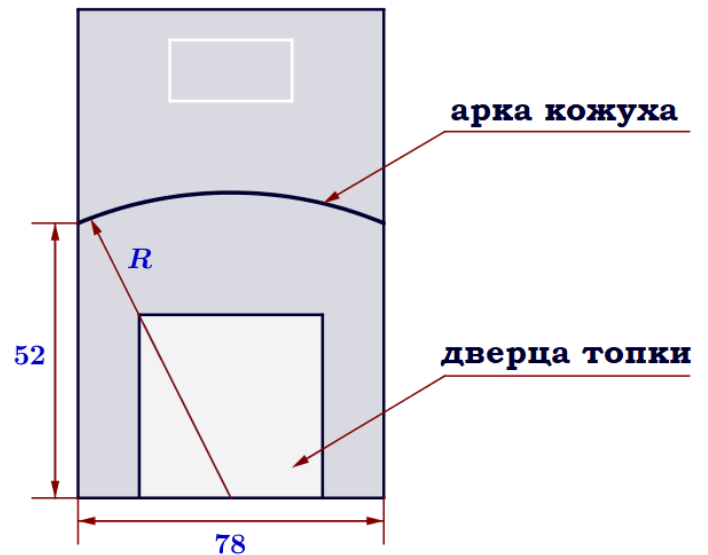


Рис. 2

Печь снабжена кожухом вокруг дверцы топки. Верхняя часть кожуха выполнена в виде арки, приваренной к передней стенке печки по дуге окружности с центром в середине нижней части кожуха (см. рис. 2). Для установки печки хозяину понадобилось узнать радиус закругления арки  $R$ . Размеры кожуха в сантиметрах показаны на рисунке. Найдите радиус закругления арки в сантиметрах.

**Задание 2.** Хозяин дачного участка строит баню с парным отделением. Парное отделение имеет размеры: длина 3,2 м, ширина 2,5 м, высота 1,9 м. Окон в парном отделении нет, для доступа внутрь планируется дверь шириной 60 см, высота дверного проёма 1,7 м. Для прогрева парного отделения можно использовать электрическую или дровяную печь. В таблице представлены характеристики трёх печей.

Номер печи	Тип	Объём помещения (куб. м)	Масса (кг)	Стоимость (руб.)
1	дровяная	7 – 11	42	17 000
2	дровяная	9 – 17	46	18 500
3	электрическая	8 – 16,5	18	14 000

Для установки дровяной печи дополнительных затрат не потребуется. Установка электрической печи потребует подведения специального кабеля, что обойдётся в 6200 руб.

**1.** Установите соответствие между массами и номерами печей.

Заполните таблицу, в бланк ответов перенесите последовательность трёх цифр без пробелов, запятых и других дополнительных символов.

Стоимость (руб.)	18 500	14 000	17 000
Номер печи			

**2.** Найдите объём парного отделения строящейся бани. Ответ дайте в кубических метрах.

**3.** Во сколько рублей обойдётся покупка дровяной печи, подходящей по объёму парного отделения, с доставкой, если доставка печи до дачного участка будет стоить 1200 рублей?

**4.** Доставка любой печи из магазина до участка стоит 1000 рублей. При покупке печи стоимостью больше 15 000 рублей магазин делает скидку 10% на товар и 25% на доставку. Сколько рублей будет стоить покупка печи номер 2 с доставкой на этих условиях?

5. Хозяин выбрал дровяную печь (рис. 1). Чертёж передней панели печи показан на рисунке 2.



Рис. 1

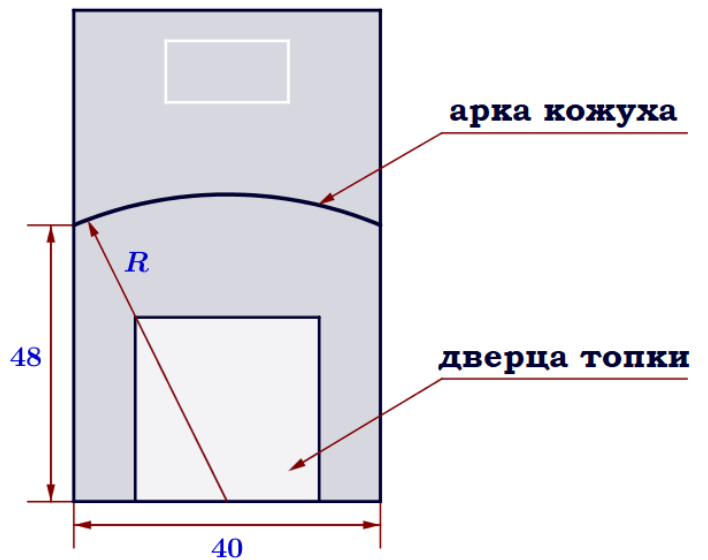


Рис. 2

Печь снабжена кожухом вокруг дверцы топки. Верхняя часть кожуха выполнена в виде арки, приваренной к передней стенке печки по дуге окружности с центром в середине нижней части кожуха (см. рис. 2). Для установки печки хозяину понадобилось узнать радиус закругления арки  $R$ . Размеры кожуха в сантиметрах показаны на рисунке. Найдите радиус закругления арки в сантиметрах.

**Задание 3.** Хозяин дачного участка строит баню с парным отделением. Парное отделение имеет размеры: длина 3,4 м, ширина 2 м, высота 2,1 м. Окон в парном отделении нет, для доступа внутрь планируется дверь шириной 62 см, высота дверного проёма 1,8 м. Для прогрева парного отделения можно использовать электрическую или дровяную печь. В таблице представлены характеристики трёх печей.

Номер печи	Тип	Объём помещения (куб. м)	Масса (кг)	Стоимость (руб.)
1	дровяная	8 – 12	39	22 000
2	дровяная	10 – 19,5	41	28 000
3	электрическая	9 – 17	17	19 500

Для установки дровяной печи дополнительных затрат не потребуется. Установка электрической печи потребует подведения специального кабеля, что обойдётся в 6800 руб.

**1.** Установите соответствие между массами и номерами печей.

Заполните таблицу, в бланк ответов перенесите последовательность трёх цифр без пробелов, запятых и других дополнительных символов.

Масса (кг)	17	41	39
Номер печи			

**2.** Найдите площадь пола парного отделения строящейся бани. Ответ дайте в квадратных метрах.

**3.** Во сколько рублей обойдётся покупка электрической печи с установкой и доставкой, если доставка печи до дачного участка будет стоить 1000 рублей?

**4.** Доставка любой печи из магазина до участка стоит 800 рублей. При покупке печи стоимостью больше 20 000 рублей магазин делает скидку 15% на товар и 20% на доставку. Сколько рублей будет стоить покупка печи номер 1 с доставкой на этих условиях?

5. Хозяин выбрал дровяную печь (рис. 1). Чертёж передней панели печи показан на рисунке 2.



Рис. 1

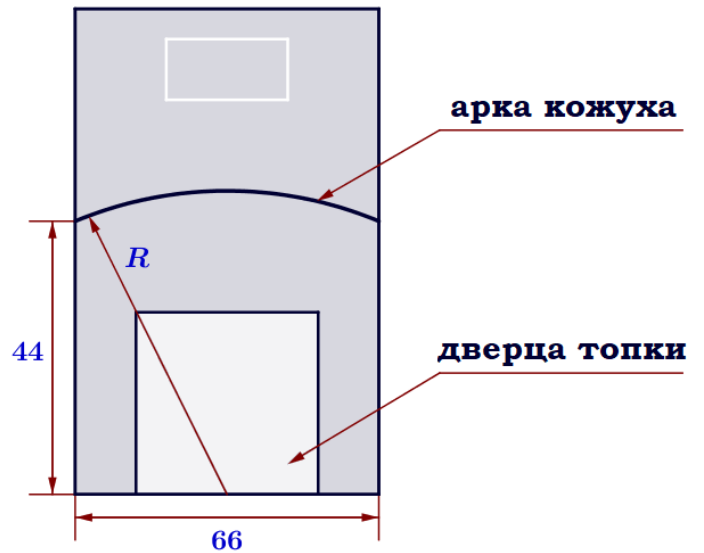


Рис. 2

Печь снабжена кожухом вокруг дверцы топки. Верхняя часть кожуха выполнена в виде арки, приваренной к передней стенке печки по дуге окружности с центром в середине нижней части кожуха (см. рис. 2). Для установки печки хозяину понадобилось узнать радиус закругления арки  $R$ . Размеры кожуха в сантиметрах показаны на рисунке. Найдите радиус закругления арки в сантиметрах.

**Задание 4.** Хозяин дачного участка строит баню с парным отделением. Парное отделение имеет размеры: длина 3,5 м, ширина 2 м, высота 2,3 м. Окон в парном отделении нет, для доступа внутрь планируется дверь шириной 64 см, высота дверного проёма 1,9 м. Для прогрева парного отделения можно использовать электрическую или дровяную печь. В таблице представлены характеристики трёх печей.

Номер печи	Тип	Объём помещения (куб. м)	Масса (кг)	Стоимость (руб.)
1	дровяная	8 – 15	58	16 500
2	дровяная	7 – 16,5	70	21 000
3	электрическая	9 – 18	33	18 000

Для установки дровяной печи дополнительных затрат не потребуется. Установка электрической печи потребует подведения специального кабеля, что обойдётся в 6400 руб.

**1.** Установите соответствие между массами и номерами печей.

Заполните таблицу, в бланк ответов перенесите последовательность трёх цифр без пробелов, запятых и других дополнительных символов.

Стоимость (руб.)	16 500	18 000	21 000
Номер печи			

**2.** Найдите площадь потолка парного отделения строящейся бани. Ответ дайте в квадратных метрах.

**3.** Во сколько рублей обойдётся покупка электрической печи с установкой и доставкой, если доставка печи до дачного участка будет стоить 800 рублей?

**4.** Доставка любой печи из магазина до участка стоит 1000 рублей. При покупке печи стоимостью больше 15 000 рублей магазин делает скидки 5% на товар и 25% на доставку. Сколько рублей будет стоить покупка печи номер 1 с доставкой на этих условиях?

5. Хозяин выбрал дровяную печь (рис. 1). Чертёж передней панели печи показан на рисунке 2.



Рис. 1

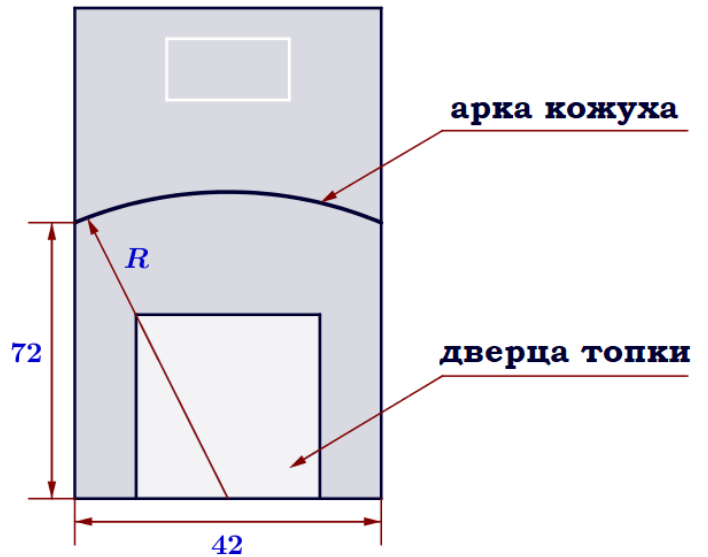


Рис. 2

Печь снабжена кожухом вокруг дверцы топки. Верхняя часть кожуха выполнена в виде арки, приваренной к передней стенке печки по дуге окружности с центром в середине нижней части кожуха (см. рис. 2). Для установки печки хозяину понадобилось узнать радиус закругления арки  $R$ . Размеры кожуха в сантиметрах показаны на рисунке. Найдите радиус закругления арки в сантиметрах.



**Задание 5.** Хозяин дачного участка строит баню с парным отделением. Парное отделение имеет размеры: длина 3 м, ширина 2,5 м, высота 2,2 м. Окон в парном отделении нет, для доступа внутрь планируется дверь шириной 64 см, высота дверного проёма 2 м. Для прогрева парного отделения можно использовать электрическую или дровяную печь. В таблице представлены характеристики трёх печей.

Номер печи	Тип	Объём помещения (куб. м)	Масса (кг)	Стоимость (руб.)
1	дровяная	7 – 14	43	17 000
2	дровяная	9 – 17	61	24 000
3	электрическая	8 – 18,5	28	18 500

Для установки дровяной печи дополнительных затрат не потребуется. Установка электрической печи потребует подведения специального кабеля, что обойдётся в 5900 руб.

**1.** Установите соответствие между объёмами помещения и номерами печей, для которых данный объём является наибольшим для отопления помещений. Заполните таблицу, в бланк ответов перенесите последовательность трёх цифр без пробелов, запятых и других дополнительных символов.

Объём (куб. м)	17	18	14
Номер печи			

**2.** Найдите суммарную площадь стен парного отделения строящейся бани (без площади двери). Ответ дайте в квадратных метрах.

**3.** На сколько рублей покупка дровяной печи, подходящей по объёму парного отделения, обойдётся дороже электрической без учёта установки?

**4.** В прошлом году печи, указанные в таблице, стоили дороже. На них были сделаны скидки: на печь номер 1 скидка составила 15%, на печь номер 2 – 40%, на печь номер 3 – 25%. Сколько рублей стоила печь номер 2 в прошлом году?

5. Хозяин выбрал дровяную печь (рис. 1). Чертёж передней панели печи показан на рисунке 2.



Рис. 1

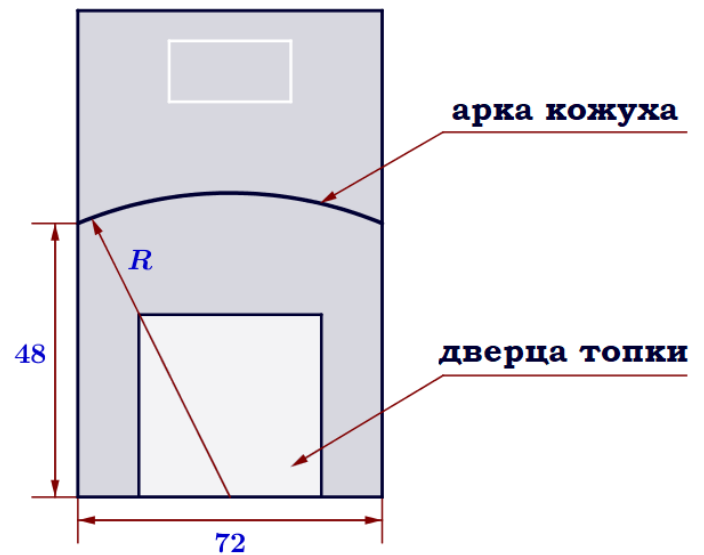


Рис. 2

Печь снабжена кожухом вокруг дверцы топки. Верхняя часть кожуха выполнена в виде арки, приваренной к передней стенке печи по дуге окружности с центром в середине нижней части кожуха (см. рис. 2). Для установки печи хозяину понадобилось узнать радиус закругления арки  $R$ . Размеры кожуха в сантиметрах показаны на рисунке. Найдите радиус закругления арки в сантиметрах.

**Задание 6.** Хозяин дачного участка строит баню с парным отделением. Парное отделение имеет размеры: длина 3,1 м, ширина 2,2 м, высота 2 м. Окон в парном отделении нет, для доступа внутрь планируется дверь шириной 60 см, высота дверного проёма 1,8 м. Для прогрева парного отделения можно использовать электрическую или дровяную печь. В таблице представлены характеристики трёх печей.

Номер печи	Тип	Объём помещения (куб. м)	Масса (кг)	Стоимость (руб.)
1	дровяная	8 – 13	42	19 000
2	дровяная	11 – 15	54	27 000
3	электрическая	7 – 17,5	21	22 500

Для установки дровяной печи дополнительных затрат не потребуется. Установка электрической печи потребует подведения специального кабеля, что обойдётся в 5700 руб.

**1.** Установите соответствие между объёмами помещения и номерами печей, для которых данный объём является наименьшим для отопления помещений. Заполните таблицу, в бланк ответов перенесите последовательность трёх цифр без пробелов, запятых и других дополнительных символов.

Объём (куб. м)	7	8	11
Номер печи			

**2.** Найдите суммарную площадь стен парного отделения строящейся бани (без площади двери). Ответ дайте в квадратных метрах.

**3.** На сколько рублей покупка дровяной печи, подходящей по объёму парного отделения, обойдётся дешевле электрической с учетом установки?

**4.** В прошлом году печи, указанные в таблице, стоили дороже. На них были сделаны скидки: на печь номер 1 скидка составила 10%, на печь номер 2 – 35%, на печь номер 3 – 25%. Сколько рублей стоила печь номер 3 в прошлом году?

5. Хозяин выбрал дровяную печь (рис. 1). Чертёж передней панели печи показан на рисунке 2.



Рис. 1

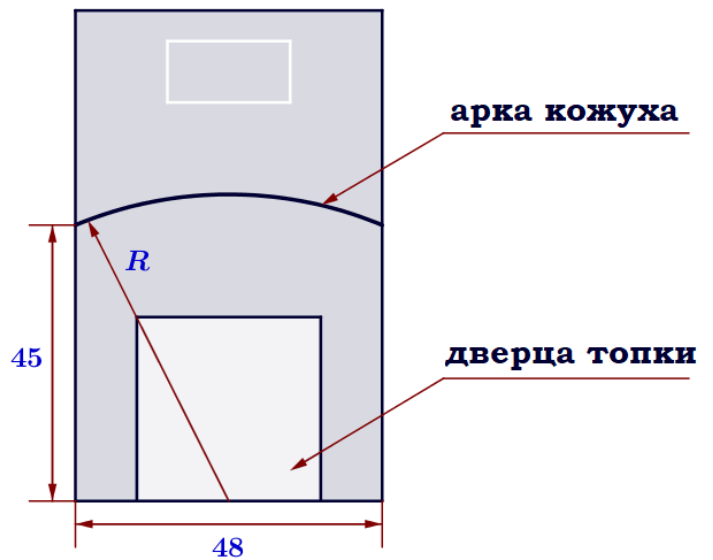


Рис. 2

Печь снабжена кожухом вокруг дверцы топки. Верхняя часть кожуха выполнена в виде арки, приваренной к передней стенке печки по дуге окружности с центром в середине нижней части кожуха (см. рис. 2). Для установки печки хозяину понадобилось узнать радиус закругления арки  $R$ . Размеры кожуха в сантиметрах показаны на рисунке. Найдите радиус закругления арки в сантиметрах.

**Задание 7.** Хозяин дачного участка строит баню с парным отделением. Парное отделение имеет размеры: длина 3,3 м, ширина 2 м, высота 2,2 м. Окон в парном отделении нет, для доступа внутрь планируется дверь шириной 60 см, высота дверного проёма 2 м. Для прогрева парного отделения можно использовать электрическую или дровяную печь. В таблице представлены характеристики трёх печей.

Номер печи	Тип	Объём помещения (куб. м)	Масса (кг)	Стоимость (руб.)
1	дровяная	9 – 14,5	51	16 000
2	дровяная	7 – 16	74	22 500
3	электрическая	10 – 19	22	20 000

Для установки дровяной печи дополнительных затрат не потребуется. Установка электрической печи потребует подведения специального кабеля, что обойдётся в 5500 руб.

1. Найдите объём парного отделения строящейся бани. Ответ дайте в кубических метрах.
2. На дровяную печь, масса которой 74 кг, сделали скидку 10%. Сколько рублей стала стоить печь?
3. На сколько рублей покупка дровяной печи, подходящей по объёму парного отделения, обойдётся дешевле электрической с учётом установки?
4. Доставка любой печи из магазина до участка стоит 1000 рублей. При покупке печи стоимостью больше 18 000 рублей магазин делает скидку 5% на товар и 30% на доставку. Сколько рублей будет стоить покупка печи номер 3 с доставкой на этих условиях?

5. Хозяин выбрал дровяную печь (рис. 1). Чертёж передней панели печи показан на рисунке 2.



Рис. 1

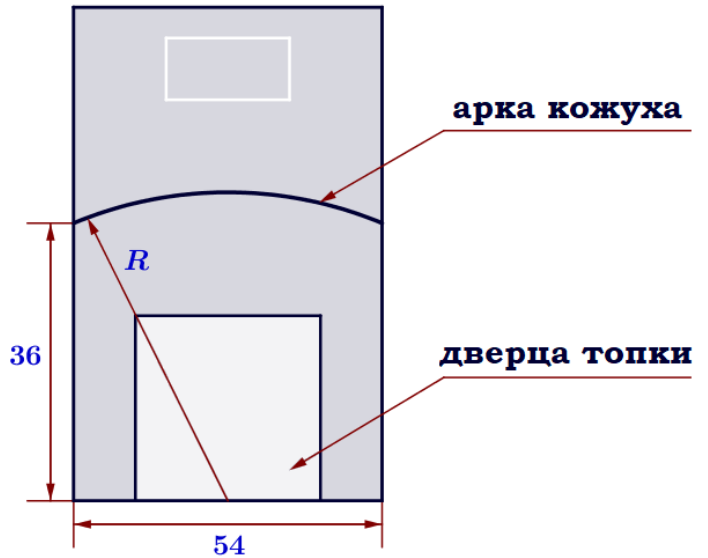


Рис. 2

Печь снабжена кожухом вокруг дверцы топки. Верхняя часть кожуха выполнена в виде арки, приваренной к передней стенке печки по дуге окружности с центром в середине нижней части кожуха (см. рис. 2). Для установки печки хозяину понадобилось узнать радиус закругления арки  $R$ . Размеры кожуха в сантиметрах показаны на рисунке. Найдите радиус закругления арки в сантиметрах.

**Задание 8.** Хозяин дачного участка строит баню с парным отделением. Парное отделение имеет размеры: длина 3,2 м, ширина 2,4 м, высота 2 м. Окон в парном отделении нет, для доступа внутрь планируется дверь шириной 62 см, высота дверного проёма 1,8 м. Для прогрева парного отделения можно использовать электрическую или дровяную печь. В таблице представлены характеристики трёх печей.

Номер печи	Тип	Объём помещения (куб. м)	Масса (кг)	Стоимость (руб.)
1	дровяная	7 – 12,5	49	20 500
2	дровяная	10 – 16	66	26 000
3	электрическая	8 – 17,5	19	22 000

Для установки дровяной печи дополнительных затрат не потребуется. Установка электрической печи потребует подведения специального кабеля, что обойдётся в 5400 руб.

1. Найдите объём парного отделения строящейся бани. Ответ дайте в кубических метрах.
2. На электрическую печь сделали скидку 15%. Сколько рублей стала стоить печь?
3. На сколько рублей покупка дровяной печи, подходящей по объёму парного отделения, обойдётся дороже электрической без учёта установки?
4. Доставка любой печи из магазина до участка стоит 1000 рублей. При покупке печи стоимостью больше 20 000 рублей магазин делает скидку 10% на товар и 35% на доставку. Сколько рублей будет стоить покупка печи номер 3 с доставкой на этих условиях?

5. Хозяин выбрал дровяную печь (рис. 1). Чертёж передней панели печи показан на рисунке 2.



Рис. 1

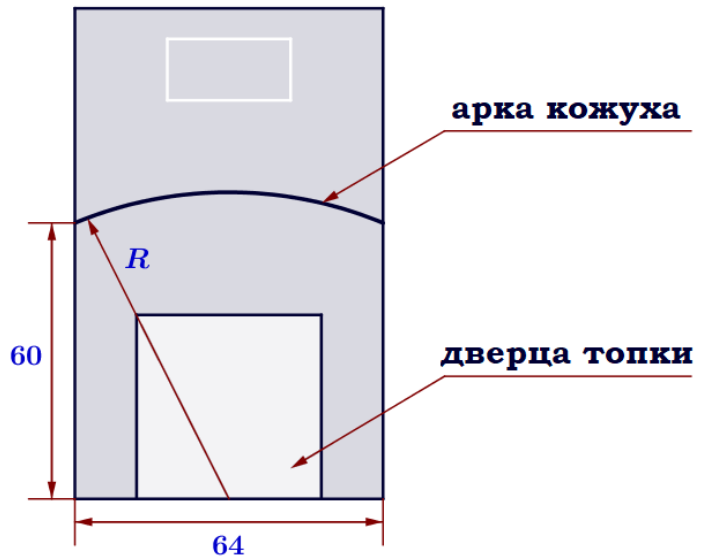


Рис. 2

Печь снабжена кожухом вокруг дверцы топки. Верхняя часть кожуха выполнена в виде арки, приваренной к передней стенке печи по дуге окружности с центром в середине нижней части кожуха (см. рис. 2). Для установки печи хозяину понадобилось узнать радиус закругления арки  $R$ . Размеры кожуха в сантиметрах показаны на рисунке. Найдите радиус закругления арки в сантиметрах.